



15º ROTEIRO DE ATIVIDADES COMPLEMENTARES DE ESTUDO – COVID 19 GRUPO- 2

ESCOLA MUNICIPAL GARRASTAZU MÉDICI.

PROFESSORA: KELEN SANCHES EMMENDORFER TURMA: SALA DE RECURSO

ALUNO(A): _____

COMPONENTES CURRICULARES: LÍNGUA PORTUGUESA, MATEMÁTICA, PSICOMOTRICIDADE.

PERÍODO DE REALIZAÇÃO: 24 Á 28 DE AGOSTO DE 2020.

O QUE VOCÊ VAI ESTUDAR:

- Matemática: Noções de quantidade e operações de soma e subtração.
- Psicomotricidade: Percepção visual, motricidade (global e fina), organização espacial e temporal.
- Língua portuguesa: Linguagem oral e escrita, interpretação textual.

PARA QUE VAMOS ESTUDAR ESSES CONTEÚDOS?

- Estimular a atenção e a percepção visual .
- Resolver e utilizar fatos básicos da adição e da multiplicação para o cálculo mental ou escrito.
- Ler e compreender, silenciosamente e, em seguida, em voz alta, com autonomia e fluência, textos curtos com nível de textualidade adequado.
- Desenvolver progressivamente as habilidades manuais, adquirindo controle para desenhar, pintar, rasgar, recortar, folhear, entre outros.
- Escrever corretamente palavras com sílabas CV, V, CVC, CCV, identificando que existem vogais em todas as sílabas.

COMO VAMOS REGISTRAR O QUE APRENDEMOS?

Vamos registrar através da leitura, da escrita, da realização de cálculos, interagindo e realizando as brincadeiras propostas.

COMO VOCÊ VAI ESTUDAR OS CONTEÚDOS?

Realizar uma atividade por dia. Leia as instruções contidas em cada aula e as explicações enviadas no grupo do whatsapp, separe os materias antes de começar a executá-las. Após realizarem as atividades, enviem no contato particular, para correção. Qualquer dúvida estarei a disposição no período vespertino de segunda à quinta-feira, para os devidos esclarecimentos.

Um grande abraço!
Professora Kelen Sanches Emmendorfer



SECRETARIA MUNICIPAL DE EDUCAÇÃO
ATIVIDADES COMPLEMENTARES DE ESTUDO – COVID 19

ESCOLA MUNICIPAL GARRASTAZU MÉDICI

PROFESSORA: Kelen Sanches Emmendorfer TURMA: Sala de Recurso

ALUNO(A): _____

DATA: 24 DE AGOSTO DE 2020.

COMPONENTE CURRICULAR : LÍNGUA PORTUGUESA COMPLETANDO A HISTÓRIA

Material a ser separado:

Lápis de escrever, borracha, material para pintura.


Como fazer:

Leia o texto com atenção e depois complete as frases com as ideias contidas na história:

Língua Portuguesa

O cachorro de Alice

Alice tem um cachorro de raça.
O cachorro se chama fumaça.
Fumaça gosta de passear com Alice.
Na rua, Fumaça é muito bravo. Se alguém caçoa de Alice, ele logo começa a latir.
A criançada da vizinhança acha Fumaça um cachorro muito valente.



Lídia M. Moraes

1. Complete com as ideias contidas no texto:

- a) _____ tem um cachorro de raça.
- b) O cachorro se chama _____.
- c) _____ gosta de passear com _____.

2. Responda :

a) Como é o cachorro fumaça?



ESCOLA MUNICIPAL GARRASTAZU MÉDICI

PROFESSORA: Kelen Sanches Emmendorfer TURMA: Sala de Recurso

ALUNO(A): _____

DATA: 25 DE AGOSTO DE 2020.

COMPONENTE CURRICULAR: LÍNGUA PORTUGUESA

FORMANDO PALAVRAS

Material a ser separado:

Lápis de escrever, borracha, material para pintura.

Como fazer:

Leia as sílabas abaixo e forme palavras juntando-as:

Quero ver quem vai ser o campeão!
Você vai tentar formar o maior número de palavras.

BA	CA	LA	TA	BU
BE	LO	NA	LE	CO
BI	DE	DA	TA	NA
BO	TI	ZA	BÊ	Ú





ESCOLA MUNICIPAL GARRASTAZU MÉDICI

PROFESSORA: Kelen Sanches Emmendorfer **TURMA:** Sala de Recurso

ALUNO(A): _____

DATA: 26 DE AGOSTO DE 2020.

COMPONENTE CURRICULAR: MATEMÁTICA


DESCOBRINDO AS QUANTIDADES

Material a ser separado:


Lápis de escrever, borracha e material para pintura.

Como fazer:


Leia e resolva cada situação problema abaixo:



Magali foi colher umas maçãs para o café da manhã. Ela colheu 9 maçãs, e comeu 2 no caminho. Com quantas ela chegou em casa?



Lucas tem uma coleção de 13 caminhões, mas resolver dar alguns para seu primo, de modo que ele ainda ficou com 8 caminhões. Quantos caminhões ele deu então para o primo dele?



Pedro sempre ajuda a mãe dele secando os pratos. Em cima da pia tinha 1 dúzia de pratos para ele secar, sendo que ele já secou 7. Quantos restam ainda para ele secar?



ESCOLA MUNICIPAL GARRASTAZU MÉDICI

PROFESSORA: Kelen Sanches Emmendorfer **TURMA:** Sala de Recurso

ALUNO(A): _____

DATA: 27 DE AGOSTO DE 2020.

COMPONENTE CURRICULAR: PERCEPÇÃO VISUAL

Material a ser separado:

Material para pintura

Como fazer:

Encontre na cena a seguir os objetos solicitados, colorindo-os:

